


주어진 원과 이 원의 중심을 지나는 한 직선과 한 점이 있을 때 이 한 점을 지나면서  
원과 수직으로 만나면서 주어진 직선에 중심이 있는 원을 작도하여라.

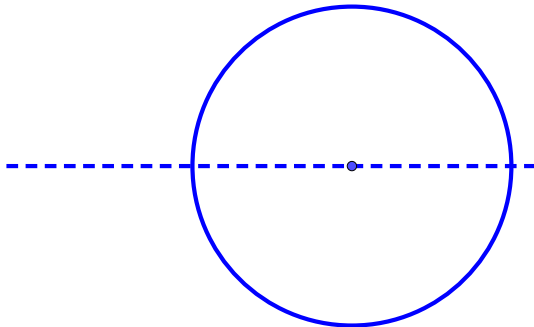
주어진 원과 이 원의 중심을 지나는 한  
직선과 한 점이 있을 때 이 한 점을  
지나면서 원과 수직으로 만나면서 주어진  
직선에 중심이 있는 원을 작도하여라.

주어진 원과 이 원의 중심을 지나는 한 직선과 한 점이 있을 때 이 한 점을 지나면서  
원과 수직으로 만나면서 주어진 직선에 중심이 있는 원을 작도하여라.

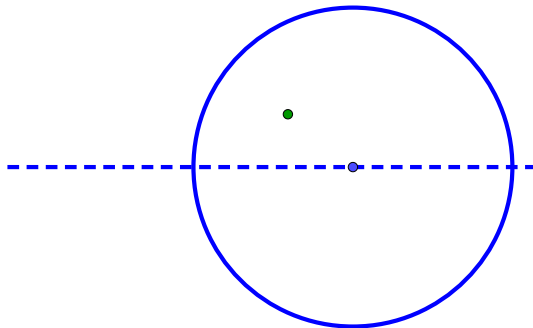
주어진 원과 이 원의 중심을 지나는 한 직선과 한 점이 있을 때 이 한 점을 지나면서  
원과 수직으로 만나면서 주어진 직선에 중심이 있는 원을 작도하여라.



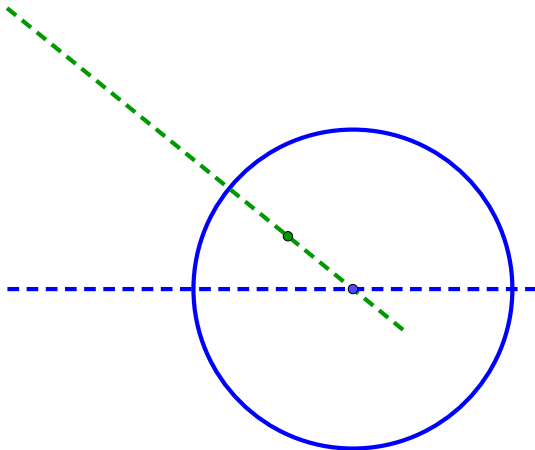
주어진 원과 이 원의 중심을 지나는 한 직선과 한 점이 있을 때 이 한 점을 지나면서 원과 수직으로 만나면서 주어진 직선에 중심이 있는 원을 작도하여라.



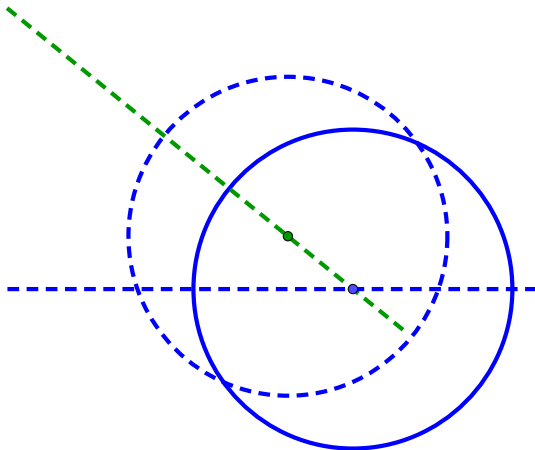
주어진 원과 이 원의 중심을 지나는 한 직선과 한 점이 있을 때 이 한 점을 지나면서 원과 수직으로 만나면서 주어진 직선에 중심이 있는 원을 작도하여라.



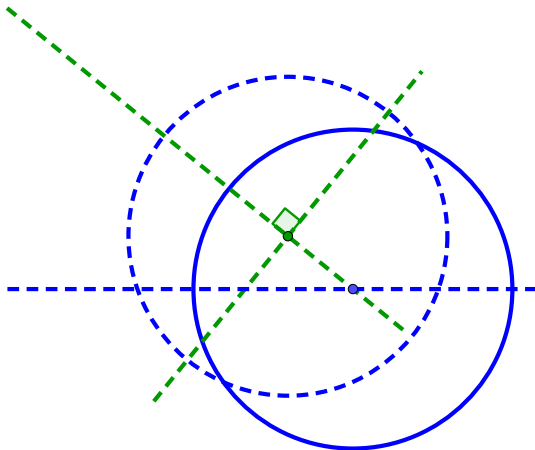
주어진 원과 이 원의 중심을 지나는 한 직선과 한 점이 있을 때 이 한 점을 지나면서 원과 수직으로 만나면서 주어진 직선에 중심이 있는 원을 작도하여라.



주어진 원과 이 원의 중심을 지나는 한 직선과 한 점이 있을 때 이 한 점을 지나면서 원과 수직으로 만나면서 주어진 직선에 중심이 있는 원을 작도하여라.

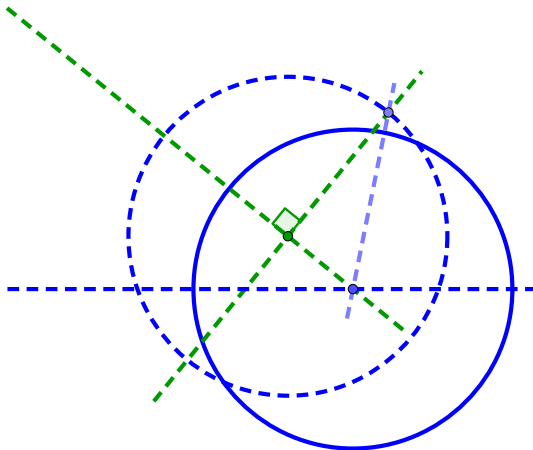


주어진 원과 이 원의 중심을 지나는 한 직선과 한 점이 있을 때 이 한 점을 지나면서 원과 수직으로 만나면서 주어진 직선에 중심이 있는 원을 작도하여라.

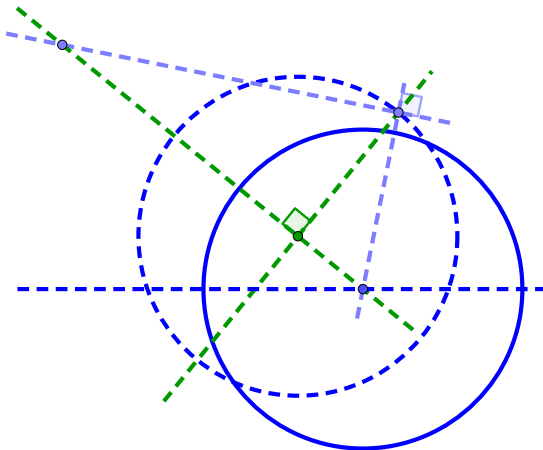




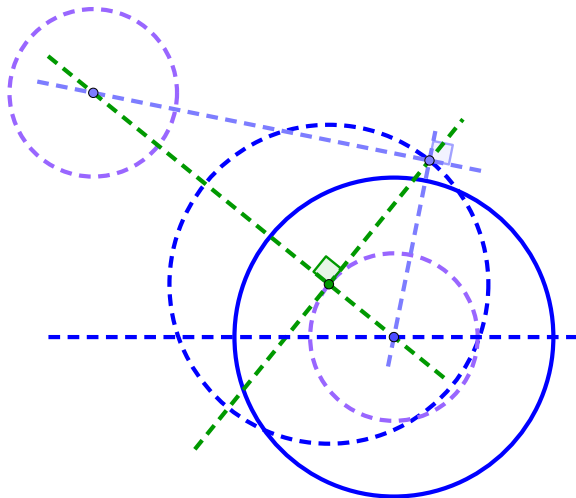
주어진 원과 이 원의 중심을 지나는 한 직선과 한 점이 있을 때 이 한 점을 지나면서 원과 수직으로 만나면서 주어진 직선에 중심이 있는 원을 작도하여라.



주어진 원과 이 원의 중심을 지나는 한 직선과 한 점이 있을 때 이 한 점을 지나면서 원과 수직으로 만나면서 주어진 직선에 중심이 있는 원을 작도하여라.



주어진 원과 이 원의 중심을 지나는 한 직선과 한 점이 있을 때 이 한 점을 지나면서 원과 수직으로 만나면서 주어진 직선에 중심이 있는 원을 작도하여라.

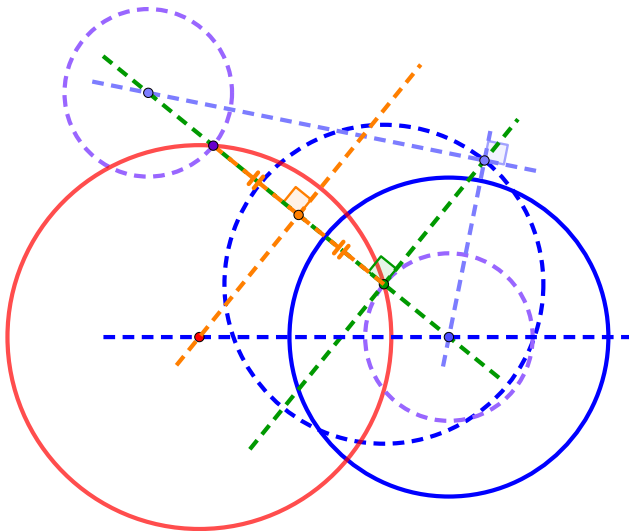




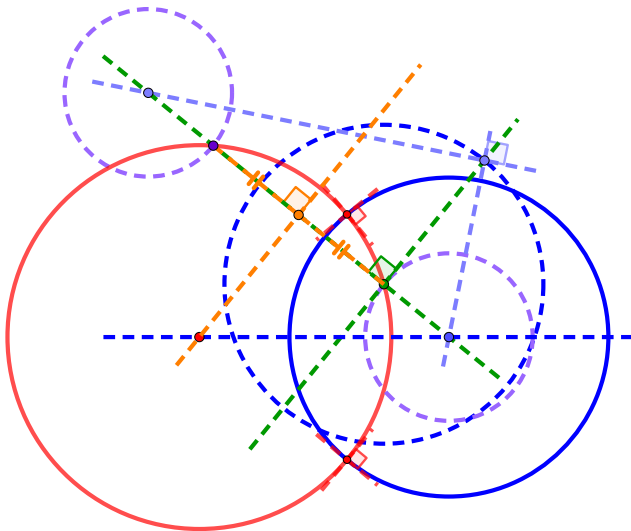




주어진 원과 이 원의 중심을 지나는 한 직선과 한 점이 있을 때 이 한 점을 지나면서 원과 수직으로 만나면서 주어진 직선에 중심이 있는 원을 작도하여라.



주어진 원과 이 원의 중심을 지나는 한 직선과 한 점이 있을 때 이 한 점을 지나면서 원과 수직으로 만나면서 주어진 직선에 중심이 있는 원을 작도하여라.





주어진 원과 이 원의 중심을 지나는 한 직선과 한 점이 있을 때 이 한 점을 지나면서 원과 수직으로 만나면서 주어진 직선에 중심이 있는 원을 작도하여라.

