


한 원이 있고 두 점이 주어졌을 때, 두 점을 지나면서 이 원과 수직으로 만나는 원을 작도하여라.

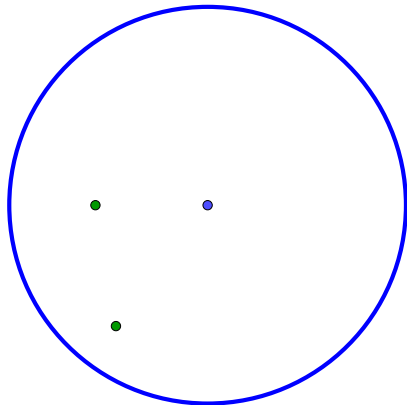
한 원이 있고 두 점이 주어졌을 때, 두 점을 지나면서 이 원과 수직으로 만나는 원을 작도하여라.

한 원이 있고 두 점이 주어졌을 때, 두 점을 지나면서 이 원과 수직으로 만나는 원을 작도하여라.

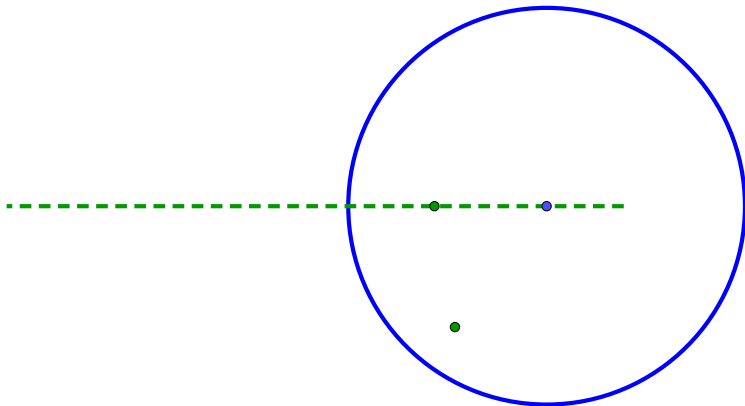
한 원이 있고 두 점이 주어졌을 때, 두 점을 지나면서 이 원과 수직으로 만나는 원을 작도하여라.



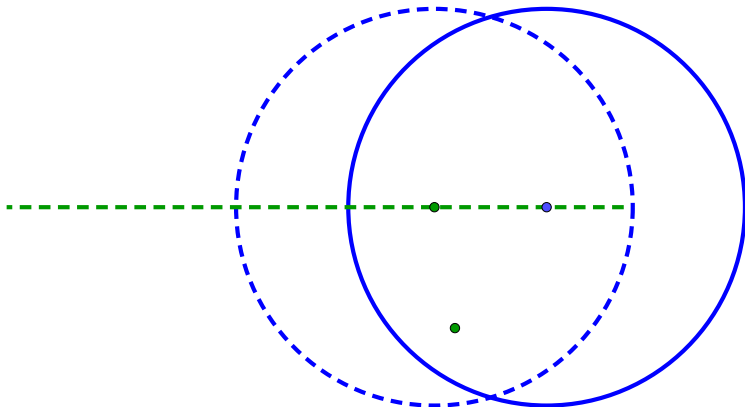
한 원이 있고 두 점이 주어졌을 때, 두 점을 지나면서 이 원과 수직으로 만나는 원을 작도하여라.



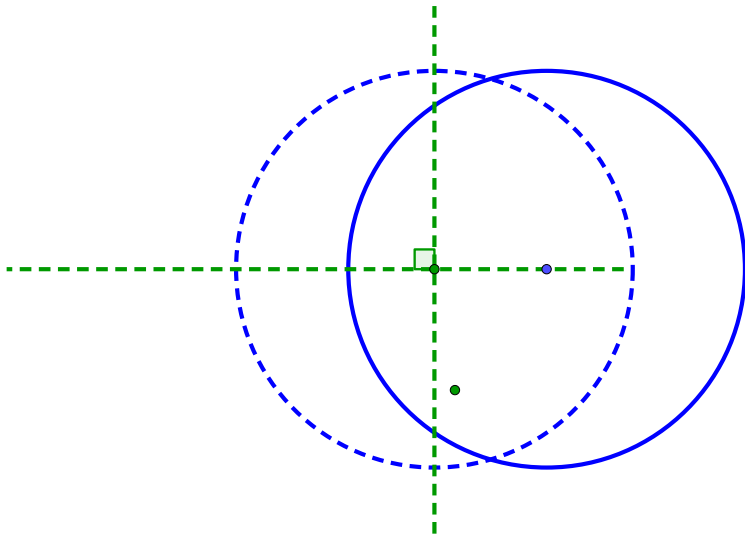
한 원이 있고 두 점이 주어졌을 때, 두 점을 지나면서 이 원과 수직으로 만나는 원을 작도하여라.



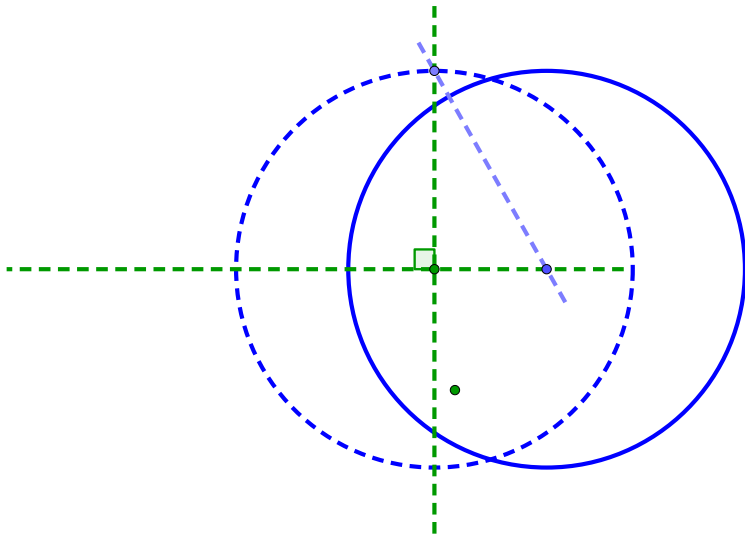
한 원이 있고 두 점이 주어졌을 때, 두 점을 지나면서 이 원과 수직으로 만나는 원을 작도하여라.



한 원이 있고 두 점이 주어졌을 때, 두 점을 지나면서 이 원과 수직으로 만나는 원을 작도하여라.

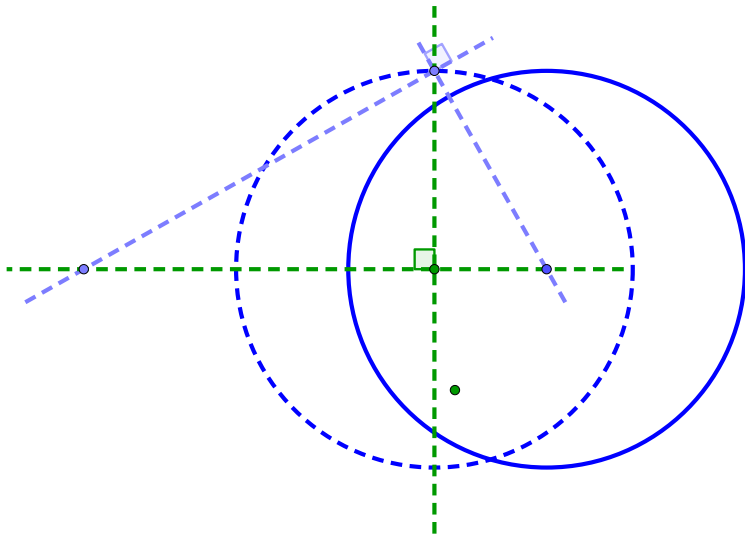


한 원이 있고 두 점이 주어졌을 때, 두 점을 지나면서 이 원과 수직으로 만나는 원을 작도하여라.



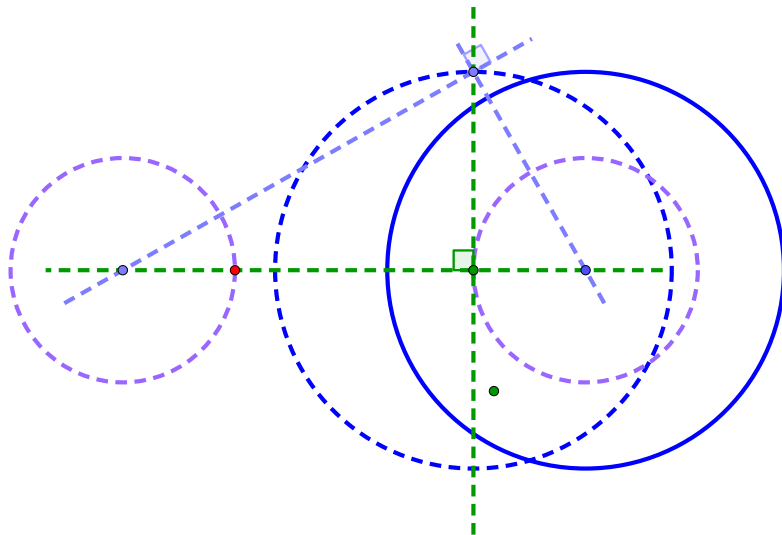


한 원이 있고 두 점이 주어졌을 때, 두 점을 지나면서 이 원과 수직으로 만나는 원을 작도하여라.

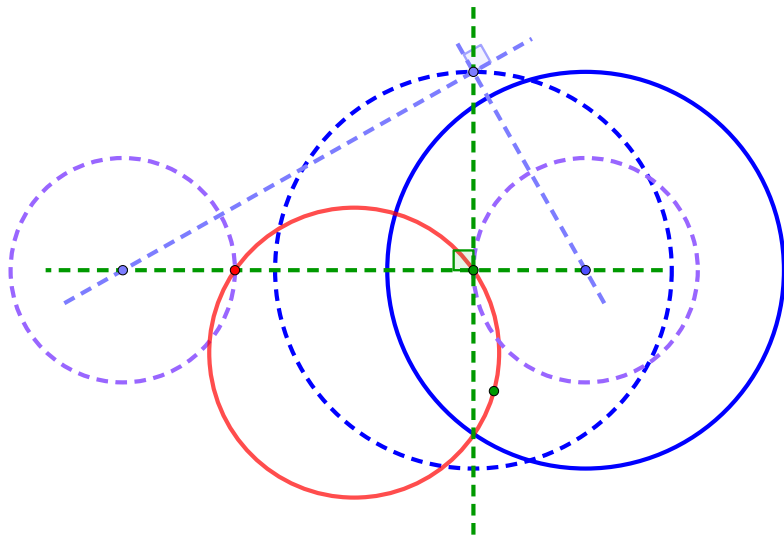




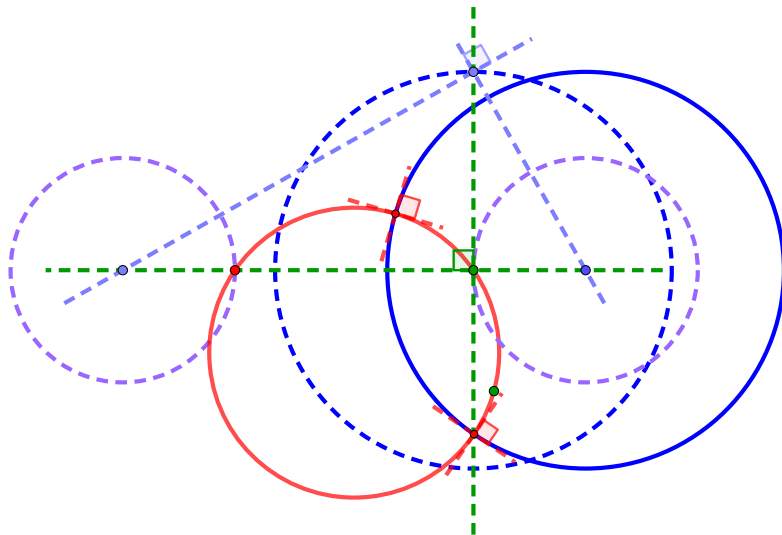
한 원이 있고 두 점이 주어졌을 때, 두 점을 지나면서 이 원과 수직으로 만나는 원을 작도하여라.



한 원이 있고 두 점이 주어졌을 때, 두 점을 지나면서 이 원과 수직으로 만나는 원을 작도하여라.



한 원이 있고 두 점이 주어졌을 때, 두 점을 지나면서 이 원과 수직으로 만나는 원을 작도하여라.



한 원이 있고 두 점이 주어졌을 때, 두 점을 지나면서 이 원과 수직으로 만나는 원을 작도하여라.

